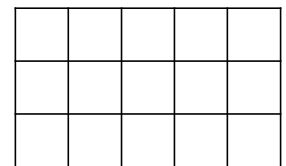
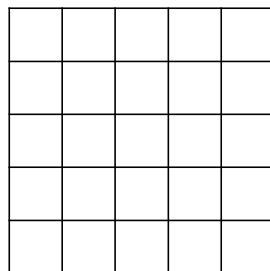



1. Erinnere dich an das Einmaleins mit 5!

1	·	5	=			4	·	5	=			7	·	5	=		
2	·	5	=			5	·	5	=			8	·	5	=		
3	·	5	=			6	·	5	=			9	·	5	=		

2. Finde zu jedem Bild immer eine Mal-Aufgabe und eine Geteilt-Aufgabe!


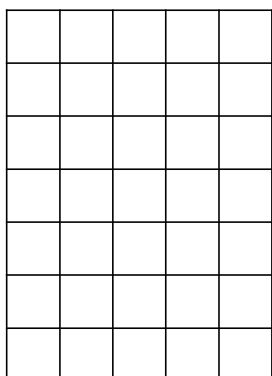
Geteilt durch 5 heißt: Wie oft passt die 5 in die große Zahl?



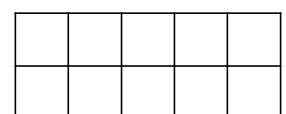
4	·	5	=		
20	:	5	=		

	·	5	=		
	:	5	=		

	·	5	=		
	:	5	=		



Jeder kann lernen, mit „Geteilt“ zu rechnen!



	·	5	=		
	:	5	=		

	·	5	=		
	:	5	=		

	·	5	=		
	:	5	=		