



Kaufpreis und Restgeld ermitteln

1 Fülle die Tabelle aus.



7€



2€



6€



5€



3€



14€

Ich habe:	Ich kaufe:	Kaufpreis:	Restgeld:
10 €		6 €	4 €
15 €			
15 €			
15 €			
20 €			
17 €			
20 €			
20 €			



* übersetzen Darstellungen der Lebenswirklichkeit in ein mathematisches Modell
 * bestimmen Geldbeträge in Euro



Rückgeld kennenlernen

1





2 Berechne das Rückgeld.




gegeben: 
zurück: 12 €




gegeben: 
zurück: _____



gegeben: 
zurück: _____




gegeben: 
zurück: _____



gegeben: 
zurück: _____



gegeben: 
zurück: _____

3



gegeben: _____
zurück: _____



gegeben: _____
zurück: _____

* lösen Sachsituationen mit Größen und nutzen dazu das Rollenspiel
* übersetzen Darstellungen der Lebenswirklichkeit in ein mathematisches Modell
* bestimmen Geldbeträge in Euro