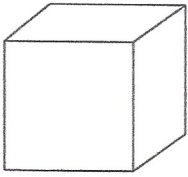



1 Ergänze.



Körperform Würfel
 Anzahl Seitenflächen 6
 Anzahl Kanten 12
 Anzahl Ecken 8




Körperform Quader
 Anzahl Seitenflächen 6
 Anzahl Kanten 12
 Anzahl Ecken 8

2 Entscheide, ob richtig ☺ oder falsch ☹?


- a) Ein Quader hat 8 Ecken. ☺ b) Ein Würfel hat 10 Kanten. ☹
 c) Jeder Quader hat 8 Ecken. ☺ d) Jeder Würfel hat 8 Ecken. ☺
 e) Ein Würfel ist auch ein Quader. ☺ f) Ein Quader ist auch ein Würfel. ☹

3 Male an: Quader ■, Würfel ■, Kugeln ●, Pyramide ▲ und Zylinder ●.

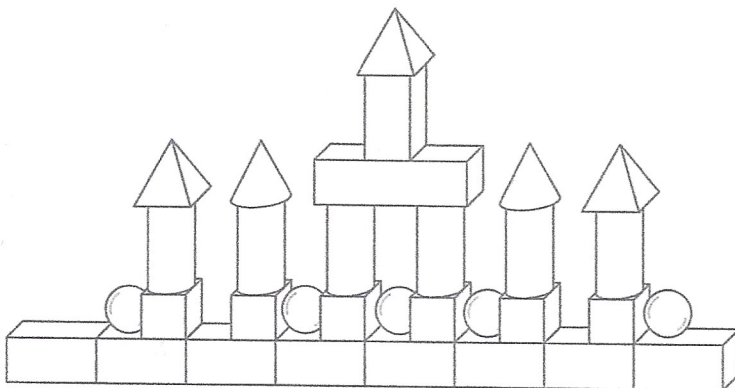
A



B



4 Trage die Anzahl der benötigten Bausteine in eine Tabelle ein.



Würfel	6
Quader	10
Kugel	5
Zylinder	6
Pyramide	3
Kegel	2